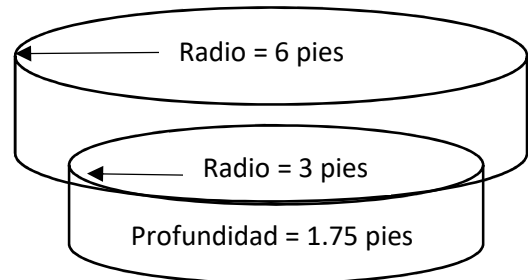




Tarea para la Clase de Certificación de CPO®

1. ¿Cuál es el volumen en galones de este Spa?

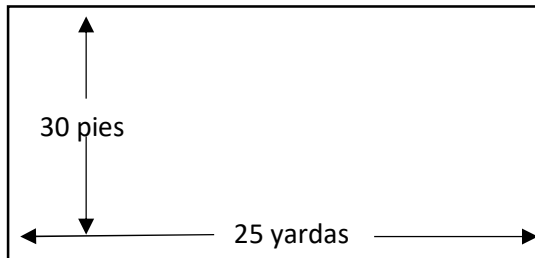
Profundidad = 2.5 pies



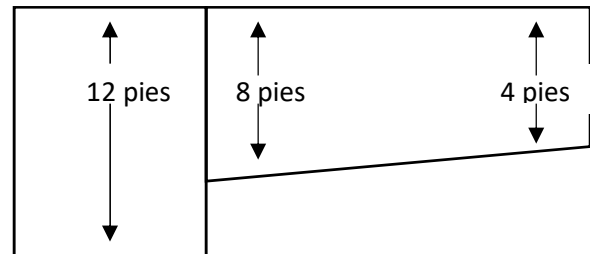
Respuesta:

2. ¿Cuál es el volumen en galones de una piscina de 25 yardas de largo y 30 pies de ancho? La piscina se divide en un área de natación y un pozo de buceo. El área de natación es de 15 yardas de largo con un rango de profundidad de 4 a 8 pies y una inclinación constante. El pozo de buceo es de 10 yardas de largo con una profundidad constante de 12 pies.

Vista Superior



Vista Lateral



Respuesta: